

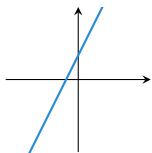
Questions flashes

1G spécialité math

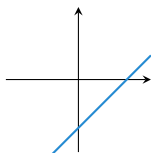
QF_S23-2

Question 1

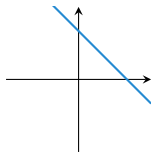
La seule droite pouvant correspondre à l'équation $y = x - 2$ est :



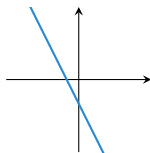
a. la droite D_1



b. la droite D_2



c. la droite D_3



d. la droite D_4

Question 2

Déterminer le 1er quartile de la série statistique suivante

Valeur	2	4	6	8	10
Effectif	4	3	5	2	6

a) $Q_1 = 2$	b) $Q_1 = 3$
c) $Q_1 = 4$	d) $Q_1 = 6$

Question 3

Soit $u(n)$ une suite arithmétique de raison $r = 4$ et de premier terme $u(0) = 3$.

Calculer

$$\sum_{k=0}^{12} u(n)$$

a) 312	b) 338
c) 351	d) 390

Question 4

Soit $u(n)$ une suite géométrique de raison $q = 0,8$ et de premier terme $u(0) = 200$.

Calculer

$$\sum_{k=0}^9 u(k)$$

a) 892,6	b) 918,4
c) 953,1	d) 982,5

Fin

On retourne son papier.