



# Indicateurs statistiques - Plan de travail

2nd – avril 2026





Savoir-faire de la séquence

- Indicateurs de tendance centrale d'une série statistique: moyenne pondérée.
- Linéarité de la moyenne.
- Indicateurs de dispersion: écart interquartile, écart type
- Décrire verbalement les différences entre deux séries statistiques, en s'appuyant sur des indicateurs ou sur des représentations graphiques données.




## 1 Découverte des indicateurs

-  Exercice 1: Notation ..... ☆☆☆☆☆
-  Exercice 2: Handballeuses ..... ☆☆☆☆☆

## 2 Indicateurs et tableau d'effectifs

-  Exercice 3: Poissons ..... ☆☆☆☆☆
-  Exercice 4: Nombre de téléphone ..... ☆☆☆☆☆
-  Exercice 5: Jeu télévisé ..... ☆☆☆☆☆
-  Exercice 6: Revenus - utilisation de la calculatrice ..... ☆☆☆☆☆

## 3 Autour de la moyenne

-  Exercice 7: Des élèves et des notes ..... ☆☆☆☆☆
-  Exercice 8: Augmentation des salaires ..... ☆☆☆☆☆
-  Exercice 9: Moyenne de deux classes ..... ☆☆☆☆☆

## 4 Programmation des indicateurs

-  Exercice 10: TP python ..... ☆☆☆☆☆

Légende:  pour découvrir quelque chose     à faire en groupe     pour s'entraîner

### Exercice 1 \_\_\_\_\_ Notation

On a demandé à des clients d'une pizzeria de donner une note à leur pizza entre 0 ("Pas terrible") et 5 ("Excellente"). Les résultats ci-dessous ont été recueillis pour deux pizzas du menu.

Série 1: Margarita					Serie 2: Quatre fromage			
5	3	4	5	5	5	3	4	5
4	4	1	4	3	1	1	1	3
3	2	4	3	1	3	2	1	1

- 1 Décrire chacune de ces séries statistiques.
- 2 Pour chaque série, calculer les indicateurs suivants
  - a) La moyenne  $\bar{x}$
  - b) La médiane  $Me$
  - c) Le premier quartile  $Q_1$
  - d) Le troisième quartile  $Q_3$
- 3 Interpréter les indicateurs calculés dans la question précédente et comparer les deux séries.

Exercice 2 

## Handballeuses

La sélectionneuse d'une équipe de handball compare le nombre de tirs effectués par deux attaquantes lors de chaque match de la première moitié du championnat.

- Série 1 - matchs de Grâce: 20, 0, 16, 4, 12, 8, 10, 10, 11, 9, 14, 6, 18, 2, 20
- Série 2 - matchs de Allison: 20, 17, 20, 2, 20, 18, 20, 0, 20, 3, 20, 0, 20, 0, 20

- 1 Décrire les deux séries statistiques.
- 2 Quel indicateur statistique montre que les joueuses ont un profil similaire ?
- 3 Quel indicateur statistique permet de différencier les deux joueuses ?
- 4 Quelles conclusions la sélectionneuse peut-elle tirer de cette étude ?

Exercice 3 

## Poissons

Voici le nombre de poissons pêchés lors des 20 dernières sorties

1 ; 5 ; 5 ; 7 ; 3 ; 3 ; 6 ; 6 ; 1 ; 1  
4 ; 4 ; 0 ; 2 ; 5 ; 7 ; 0 ; 1 ; 2 ; 1

- 1 Décrire la série statistique.
- 2 Compléter le tableau des effectifs

Nombre de poissons	0	1	2	3	4	5	6	7
Effectif								

- 3 Tracer un histogramme représentant ces valeurs (les valeurs en abscisse et l'effectif en ordonnée).
- 4 En vous basant sur le tableau des effectifs ou l'historgramme, calculer les indicateurs suivants
  - a) Moyenne  $\bar{x}$
  - b) Médiane  $Me$
  - c) Premier Quartile  $Q_1$
  - d) Troisième Quartile  $Q_3$

Exercice 4 

## Nombre de téléphone

On a fait une étude à la sortie d'un lycée pour étudier le nombre de téléphones qu'ont eu les élèves. Les résultats ont été reportés dans le tableau suivant :

Quantité	Effectif
0	5
1	25
2	60
3	55
4	40
5	0
6	2

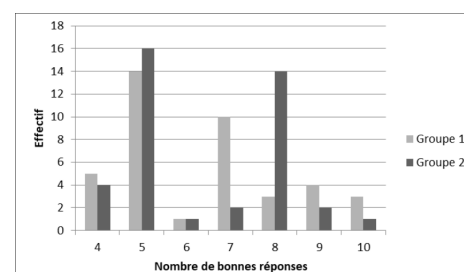
- 1 Décrire l'étude statistique.
- 2 Calculer les indicateurs suivants
  - La moyenne
  - La médiane
  - Le premier et le troisième quartile
  - L'écart inter-quartiles

Exercice 5 

## Jeu télévisé

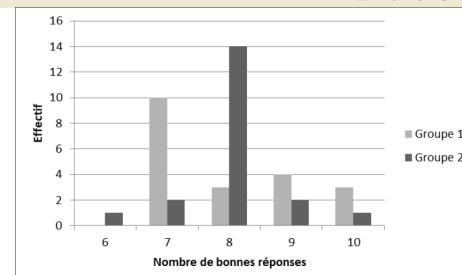
On a soumis une liste de 10 questions à deux groupes de 40 candidats à un jeu télévisé. On a représenté dans le diagramme ci-contre les résultats de chaque groupe.

- 1 Vérifier qu'il y a bien 40 candidats dans chaque équipe.
- 2 Quel est le meilleur groupe ?



Lors de la sélection, la production décide d'éliminer la moitié des candidats de chaque groupe.

- 2 Quel est le meilleur groupe après cette phase d'élimination ?
- 3 Expliquez avec vos mots ce qui, selon vous, différencie ces deux groupes.



## Exercice 6

## Revenus - utilisation de la calculatrice

On veut étudier la répartition des salaires des ménages de Petit-Ville. Une étude statistique a été faite et a donné les résultats suivants:

Salaires	1300	1400	1500	1600	1700	1800	1900	2000	2100	2200	5300	8000
Nombre de ménages	13	9	9	7	16	12	10	8	8	3	4	1

Des études similaires dans d'autres communes du département. Ces études ont donné les indicateurs suivants

Moyenne des salaires : 1800

Médiane des salaires : 1800

- 1 Vous allez calculer les indicateurs de la série statistique sur les ménages de Petit-ville en utilisant la calculatrice. Allez dans le menu statistique, entrer les données puis dans l'onglet Stats retrouvez les indicateurs.

rad STATISTIQUES		rad STATISTIQUES	
Données	Graphique	Données	Graphique
Valeurs V1	Effectifs N1		Stats
1300	13	Effectif total	n 100
1400	9	Minimum	Min 1300
1500	9	Maximum	Max 8000
1600	9	Etendue	E 6700
1700	7	Moyenne	$\bar{x}$ 2056
1800	16	Ecart type	$\sigma$ 1382.485
1900	12	Variance	$\sigma^2$ 1911264
2000	10	Premier quartile	Q1 1500

- 2 Le maire est interrogé par un journaliste au sujet de cette étude.

*Ma ville est prospère! Je suis un bon maire, les habitants de Petit-Ville sont plus riches que les autres villes du département! Regardez notre salaire moyen est plus haut!*

- 3 D'après votre étude êtes vous d'accord avec l'analyse du maire ? Peut-on dire la même chose si on compare les salaires médians ?
- 4 Pour expliquer l'écart entre la moyenne et la médiane, un journaliste décide de refaire cette étude en enlevant le foyer qui gagne 8000€.
  - a. Recalculer les indicateurs.
  - b. Pensez-vous que les habitants de Petit-Ville sont plus riches que les habitants des autres villes du département ?

## Exercice 7

## Des élèves et des notes

Un élève a obtenu les notes suivantes dans trois épreuves de son examen final :

Math: 15/20    Français: 12/20    HG: 16/20

- 1 Calculer sa moyenne à l'examen
- 2 Il se dit que ces notes sont vraiment importantes. Il voudrait qu'elles aient plus de poids pour cela il va demander à ses enseignants que toutes ces notes soient coefficients 4. Quelle sera alors sa moyenne?

3 Il se rappelle qu'il est en filière littéraire et donc que la note de français compte trois fois plus que la note de math et que la note d'histoire géographie compte deux fois plus que la note de math. Comment peut-il calculer sa moyenne?

4 Un peu plus tard arrivent deux autres notes

Sieste: 11/20 (coefficient 0.5)      Jeux vidéo: 18/20 (coefficient 2.5)

Calculer sa moyenne.

### Exercice 8 \_\_\_\_\_ Augmentation des salaires

Dans une entreprise, le salaire mensuel moyen est de 1 450 €.

L'entreprise dégaje de gros profits en 2023. Suite à cela, elle décide d'augmenter tous les salaires mensuels de 5% et d'ajouter 100 € au montant obtenu.

Quel est le nouveau salaire mensuel moyen ?

### Exercice 9 \_\_\_\_\_ Moyenne de deux classes

Un lycée compte deux classes de Seconde.

- La classe A compte 32 élèves. Leur moyenne au premier trimestre est de 13,5.
- La classe B compte 28 élèves. Leur moyenne au premier trimestre est de 11,5.

1 Un élève affirme : La moyenne générale des deux classes est  $\frac{13,5 + 11,5}{2} = 12,5$ . Êtes-vous d'accord ? Justifiez.

2 Calculer la vraie moyenne générale de l'ensemble des élèves des deux classes.

3 Expliquer pourquoi la moyenne générale est-elle plus proche de la moyenne de la classe A que de celle de la classe B.

### Exercice 10 \_\_\_\_\_ TP python

Notebooks sur Pronote (capytale)