

Questions flashes

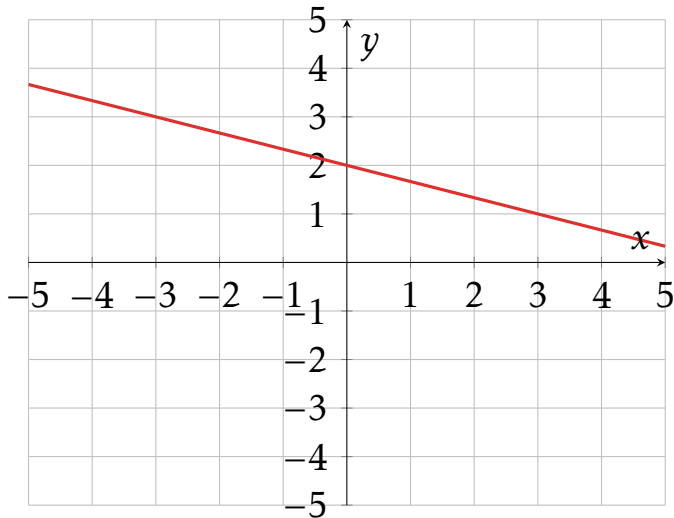
Terminale ST

30 secondes par calcul

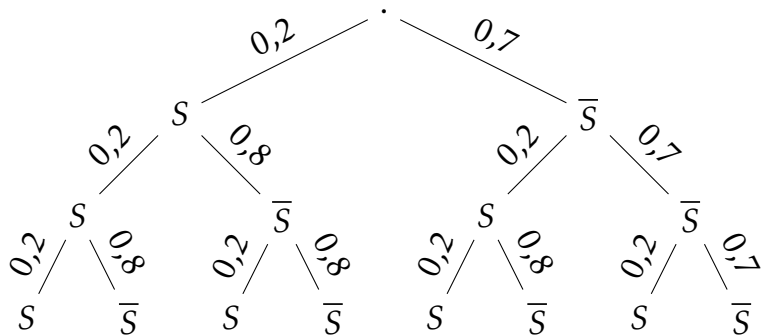
QF_S04-1

Calcul 1

Déterminer l'équation de la droite



Calcul 2



X suit est la variable aléatoire qui compte le nombre de succès.

Calculer l'espérance de X .

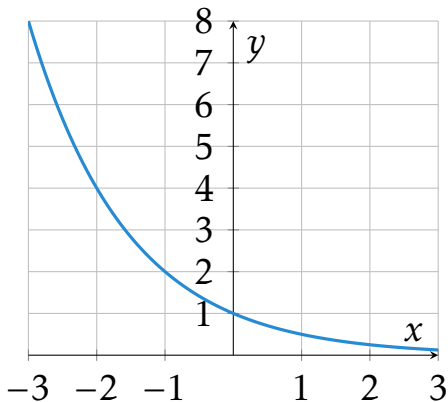
Calcul 3

Une entreprise a une valorisation de 100 millions d'euros en 2025. Sa valorisation augmente de 10% par an.
Quel était sa valorisation en 2020?

Calcul 4

Parmi les fonctions suivantes, laquelle correspond à la courbe ci-dessous?

- 1 $f(x) = 2^x$
- 2 $f(x) = 0,5^x$
- 3 $f(x) = 3^x$



Fin

On retourne son papier.